

Evaluation sur les hominidés

Objectifs du PER SHS 22

Connaître la manière dont les hommes ont évolué à travers le temps, comment ils ont organisé leur vie sociale,....

Objectifs spécifiques


- citer les 5 types d'hominidés. (la lignée humaine)
- connaître quelques particularités de nos ancêtres.

Remarques

Points ___ / 13,5 Note ___

Signature d'un parent : _____

1) La lignée humaine ou les hominidés



(Ordre chronologique des plus anciens à Nous...)

___/2.5

1) _____

2) _____

3) _____

4) _____

5) _____

J'ai vécu entre -4,4 et - 1 million d'années

J'ai vécu entre -2,5 et- 1,8 m. a.

J'ai vécu entre -2 m.a et- 200'000 ans.

-400'000 et 30'000ans.

Notre espèce

2) Le feu

Prénom : _____

Dessine un feu au-dessus des hominidés qui étaient capables d'allumer un feu



Australopithèque Homo habilis Homo erectus Homo neandertalis Homo sapiens sapiens

___/ 1.5

Le feu suite


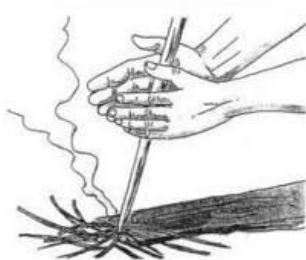
Quels avantages procure le feu à nos ancêtres ? Donne deux exemples en formant des phrases.

1) _____

2) _____

_____ / 2

Les hominidés ont mis au point 2 méthodes pour allumer un feu, comment s'appellent t-elles ?



___/1

3 L'habitat

Quels hominidés ne sont pas capables de construire une petite cabane faite de branches pour s'y abriter ?



___/0,5

4) Un peu de vocabulaire

Que signifie homo habilis ?

Homo neandertalis, étrange ce nom d'où vient-il ?

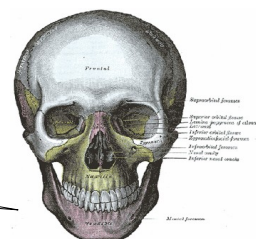
5) Qui suis-je ?

Je te ressemble, toutefois mon espèce a disparu il y a 30'000 ans environ.



Je suis un enfant _____

Mon crâne est celui d' _____








6) Complète le tableau suivant en mettant une croix au bon endroit

	Australo-pithèque	Homo Habilis	Homo Erectus	Homo Neandertalis	Homo sapiens(NOUS)
Porte des habits					
Enterre ses morts					
<u>Ne</u> fabrique <u>pas</u> des outils					

7) Les devoirs de Luc un élève de 5P

Pour ses devoirs en histoire, Luc a dû remplir ce tableau. Son grand-père qui sait tout sur les hominidés lui a dit qu'il y avait 2 erreurs ! **Entoure les !**

	Australo-pithèque	Homo Habilis	Homo Erectus	Homo Neandertalis	Homo sapiens(NOUS)
Crânes					
Volume moyen du crâne	400 cm ³	800 cm ³	1000 cm ³	1600 cm ³	1400 cm ³
Poids	25 kilos	45 kilos	60 kilos	85 kilos	75 kilos
Taille	130 cm	180 cm	150 cm	165 cm	175 cm

8) Bonus, question facultative répondez à la question et coloriez l'image.

Quels sont les hominidés représentés sur cette image ?
Justifie ta réponse en écrivant au moins 3 phrases.

_/1

