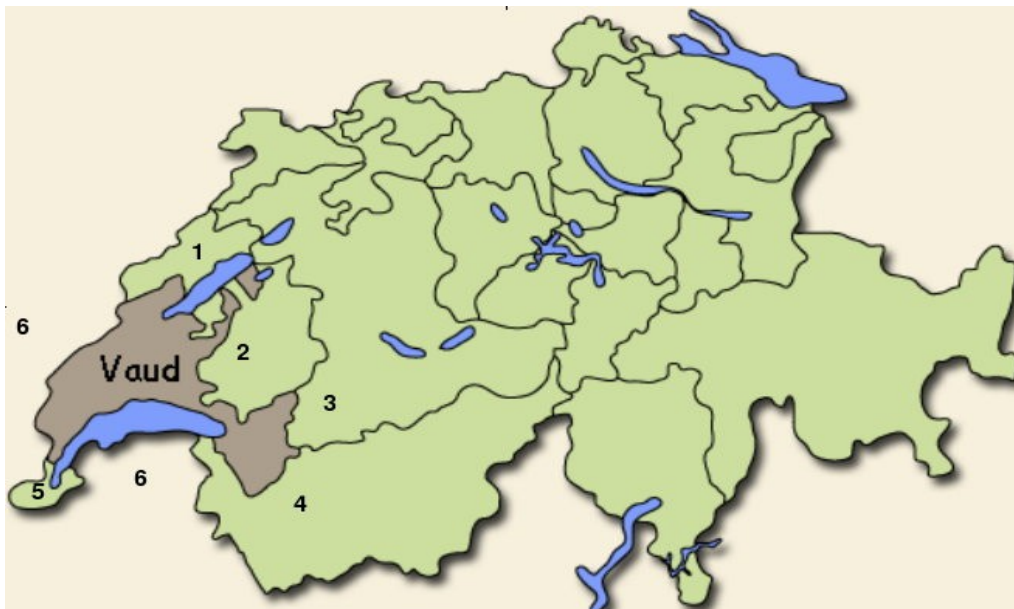


Commentaires : \_\_\_\_\_

\_\_\_\_\_  
Signature d'un parent : \_\_\_\_\_ Points \_\_\_/27

**A) Les frontières politiques du canton de Vaud.**

Voici une carte de la Suisse, cite les cantons et pays qui font frontière avec le canton de Vaud. Attention aux numéros, ils doivent correspondre aussi avec ceux sur la carte.



1) \_\_\_\_\_

4) \_\_\_\_\_

2) \_\_\_\_\_

5) \_\_\_\_\_

3) \_\_\_\_\_




6) \_\_\_\_\_

**Place les numéros sous les drapeaux**



## B) Le relief

Notre canton est divisé en trois régions bien distinctes.  
Nomme ces trois régions.

Dessins et commentaires	Noms
 Zone montagneuse aux formes arrondies	_____
 Zone de petits monts et de vallons peu profonds	_____
 Zone montagneuse aux fortes pentes et aux formes saillantes	_____

\_\_\_/3



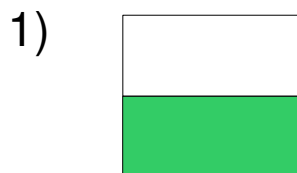
Cette montagne est la plus haute du canton, connais tu son nom et son altitude ?



Nom : \_\_\_\_\_ Altitude : \_\_\_\_\_ / 2

## C) Le drapeau du canton.

Entoure le bon drapeau



1) Patrie et Liberté

2) Société et fraternité

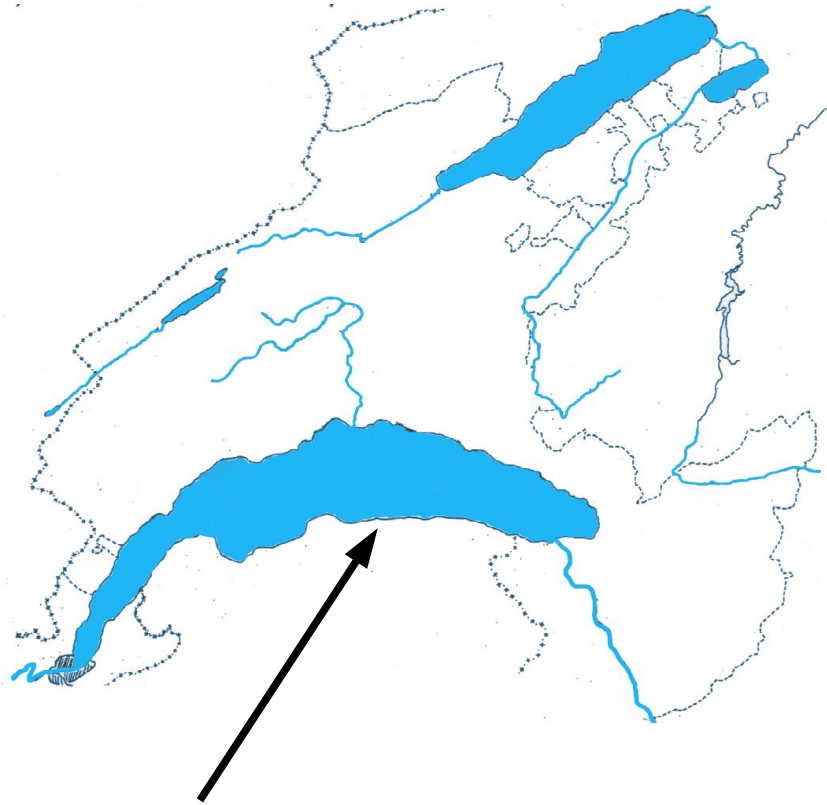
3) Liberté et Patrie

\_\_\_/2

### D) Hydrographie

Voici la carte du canton avec les principaux lacs et rivières.  
Place les numéros sur la carte et indique le nom du lac ou de la rivière en question.

- 1) \_\_\_\_\_
- 2) \_\_\_\_\_
- 3) \_\_\_\_\_
- 4) \_\_\_\_\_
- 5) \_\_\_\_\_
- 6) \_\_\_\_\_



\_\_\_/6

### E) Localités

Place sur la carte ci-dessus un L à l'endroit où se trouve Lausanne, un Y pour Yverdon un M pour Morges et un N pour Nyon.

\_\_\_/4

### G) Le lac Léman

Cite le nom du fleuve qui traverse le lac.

\_\_\_/1

A l'aide du dessin ci-dessous, explique pourquoi le lac Léman aura disparu dans 45'000 à 60'000 ans.

La fosse lémanique

Vue en coupe

