

Géographie Date : _____ Prénom : _____
Points ___/20 Evaluation sur le canton de Vaud **Note:** _____

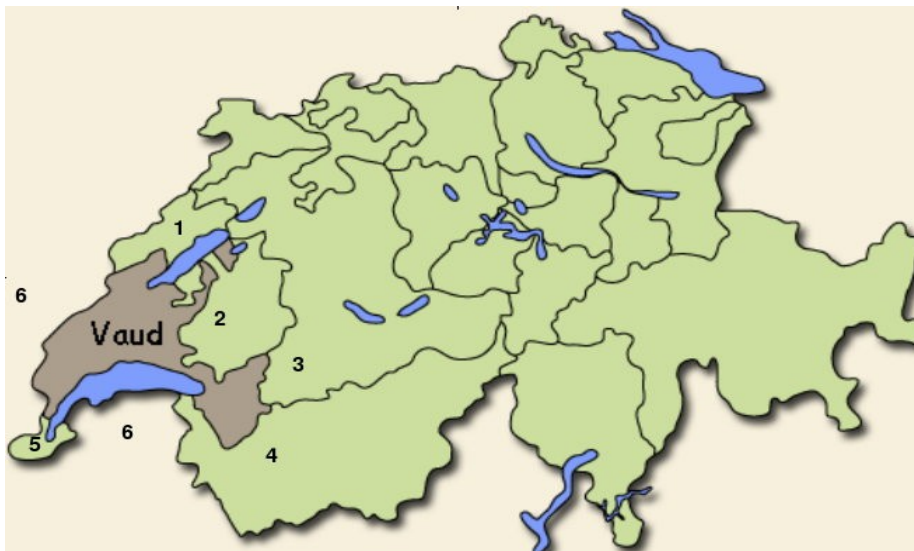
Commentaires : _____

_____ Signature d'un parent : _____

A) Les frontières politiques du canton de Vaud.

Voici une carte de la Suisse, cite les cantons et pays qui font frontière avec le canton de Vaud.

Attention aux numéros, ils doivent correspondre aussi avec ceux sur la carte.



1) _____

4) _____

2) _____


5) _____

3) _____

6) _____

___/3




Place les noms sous les drapeaux



___/3

B) Le relief

Notre canton est divisé en trois régions bien distinctes. Nomme ces trois régions.

Dessins et commentaires	Noms
<p>1</p>  <p>Zone montagneuse aux formes arrondies</p>	<hr/>
<p>2</p>  <p>Zone de petits monts et de vallons peu profonds</p>	<hr/>
<p>3</p>  <p>Zone montagneuse aux fortes pentes et aux formes saillantes</p>	<hr/>

___/3

Voici 4 photos, place les numéros, 1, 2 ou 3 sous la photo pour indiquer dans quelle région se trouvent ces lieux.

 <p>Les Diablerets</p>	 <p>Romanel</p>
 <p>Le lac de Joux</p>	 <p>Yverdon</p>

___/2

C) Hydrographie

Voici la carte du canton avec les principaux lacs et rivières.

Place les numéros sur la carte et indique le nom du lac ou de la rivière en question.

1) _____

2) _____

3) _____

4) _____

5) _____

6) _____



___/6

D) Localités

Place sur la carte ci-dessus un **L** à l'endroit où se trouve Lausanne, un **Y** pour Yverdon un **M** pour Morges et un **N** pour Nyon.

___/2

E) Définition

Que signifie le mot géographie ?.

___/1