

Evaluation sur le canton de Vaud

Commentaires : _____

Points ___/20 Note ___

A) Les frontières politiques du canton de Vaud.

Voici une carte de la Suisse, cite les cantons et pays qui font frontière avec le canton de Vaud. Attention aux numéros, ils doivent correspondre aussi avec ceux sur la carte.



1) _____

4) _____

2) _____

5) _____




3) _____

6) _____

_____/ 6

B) Le relief

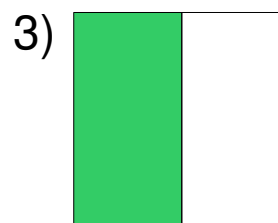
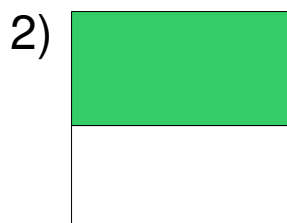
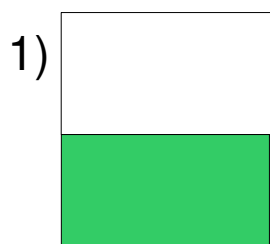
Notre canton est divisé en trois régions bien distinctes.
Nomme ces trois régions.

Dessins et commentaires	Noms
 Zone montagneuse aux formes arrondies	<hr/> <hr/>
 Zone de petits monts et de vallons peu profonds	<hr/> <hr/>
 Zone montagneuse aux fortes pentes et aux formes saillantes	<hr/> <hr/>

___/3

C) Le drapeau du canton.

Entoure le bon drapeau



Entoure la bonne devise

1) Patrie et Liberté

2) Société et Fratrie

3) Liberté et Patrie

___/2

D) Hydrographie

Voici la carte du canton avec les principaux lacs et rivières.
Place les numéros sur la carte et indique le nom du lac ou de la rivière en question.

1) _____

2) _____

3) _____

4) _____

5) _____



___/5

E) Localités

Place sur la carte ci-dessus un **L** à l'endroit où se trouve **Lausanne** puis,

un **Y** à l'endroit où se trouve **Yverdon**,

un **M** à l'endroit où se trouve **Montreux**, et

un **N** à l'endroit où se trouve **Nyon**

___/4